
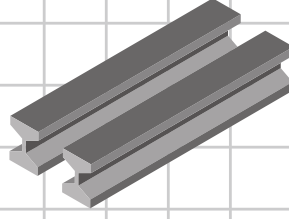



- Verilen görsellere göre madenlerinin isimlerini yazalım.

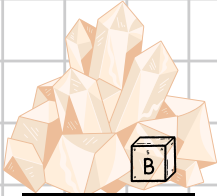


















- Aşağıdaki kutucuklara numaralar vererek fosillerin oluşumunu doğru olarak sıralayalım.

- ☐ Canlı kalıntısı sertleşerek kayaç hâlini alır ve fosil oluşur.
- ☐ Milyonlarca yıl içinde canlının üzerindeki tabakaların kalınlığı artar.
- ☐ Ölen canlılar sel ve toprak kayması gibi dış etkenler ile kum ve çamurun altında kalır.
- ☐ Canlılar doğar, yaşar ve ölür.
- ☐ Yer kabuğunun hareketleri sonucu fosiller açığa çıkar.
- ☐ Canlının yumuşak dokuları yavaş yavaş çürür ve oluşan boşluklara su ile mineraller dolar.

